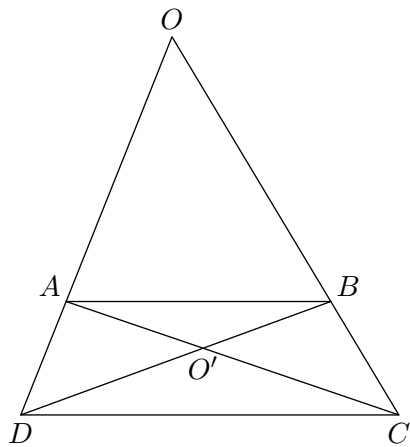


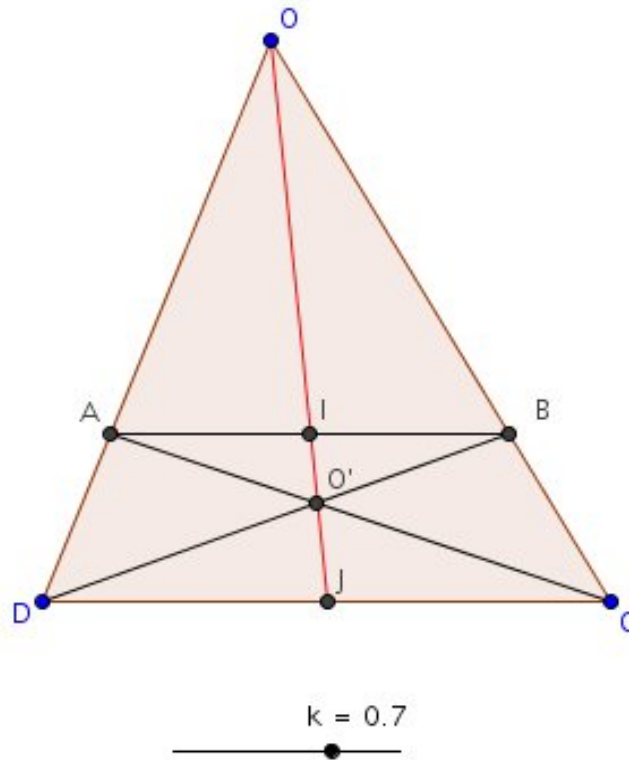
Exercice 1



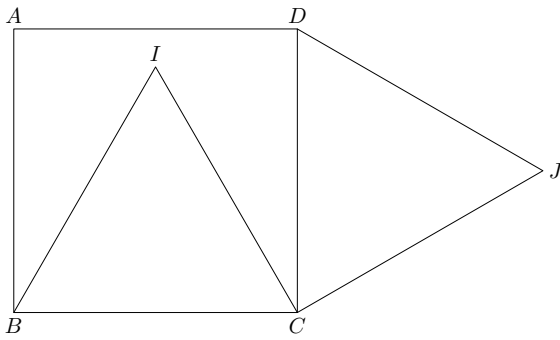
On considère un trapèze complet de bases  $[AB]$  et  $[CD]$ .

Montrer que la droite  $(OO')$  passe par les milieux des segments  $[AB]$  et  $[CD]$ .

**Illustration**



**Exercice 2**

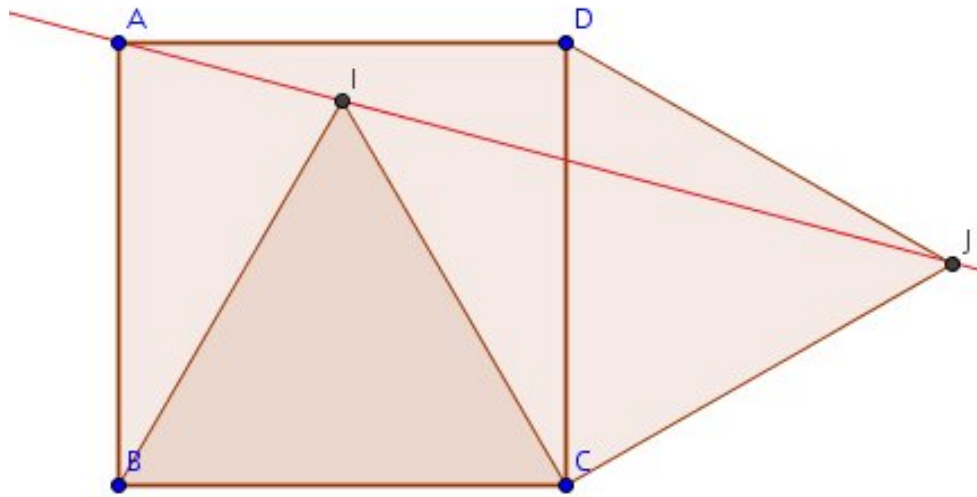


Dans la figure ci-contre,  $ABCD$  est un carré de sens direct et les triangles  $DCJ$  et  $BCI$  sont équilatéraux de sens direct.

Il s'agit de montrer à l'aide d'une transformation, que les points  $A$ ,  $I$  et  $J$  sont alignés et que  $DB = IJ$ .

On pourra utiliser le point  $K$  tel que  $AKC$  soit équilatéral de sens direct.

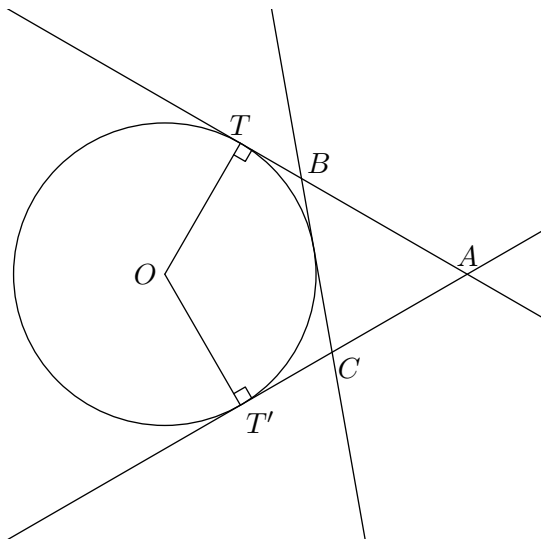
**Illustration**



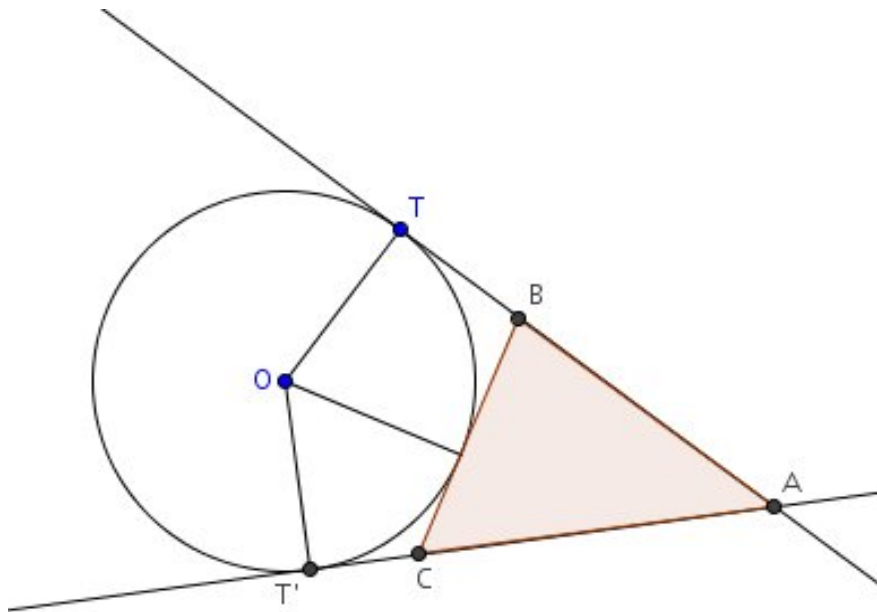
**Exercice 3**

Dans la figure ci-contre, les trois droites sont tangentes au cercle. On sait seulement que  $AT = 4 \text{ cm}$ .

Quel est le périmètre du triangle  $ABC$  ?



**Illustration**



**Exercice 4**

Soit  $t$  une translation de vecteur  $\vec{u}$  non nul.

Montrer qu'une droite  $(d)$  est globalement invariante par  $t$ , c'est-à-dire  $t(d) = d$  si et seulement si  $\vec{u}$  est un vecteur directeur de  $(d)$ .

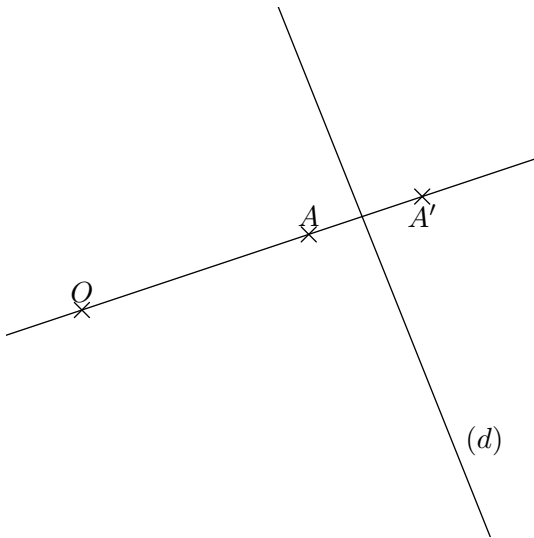
**Exercice 5**

Soit  $h$  une homothétie de centre  $O$  distincte de l'identité.

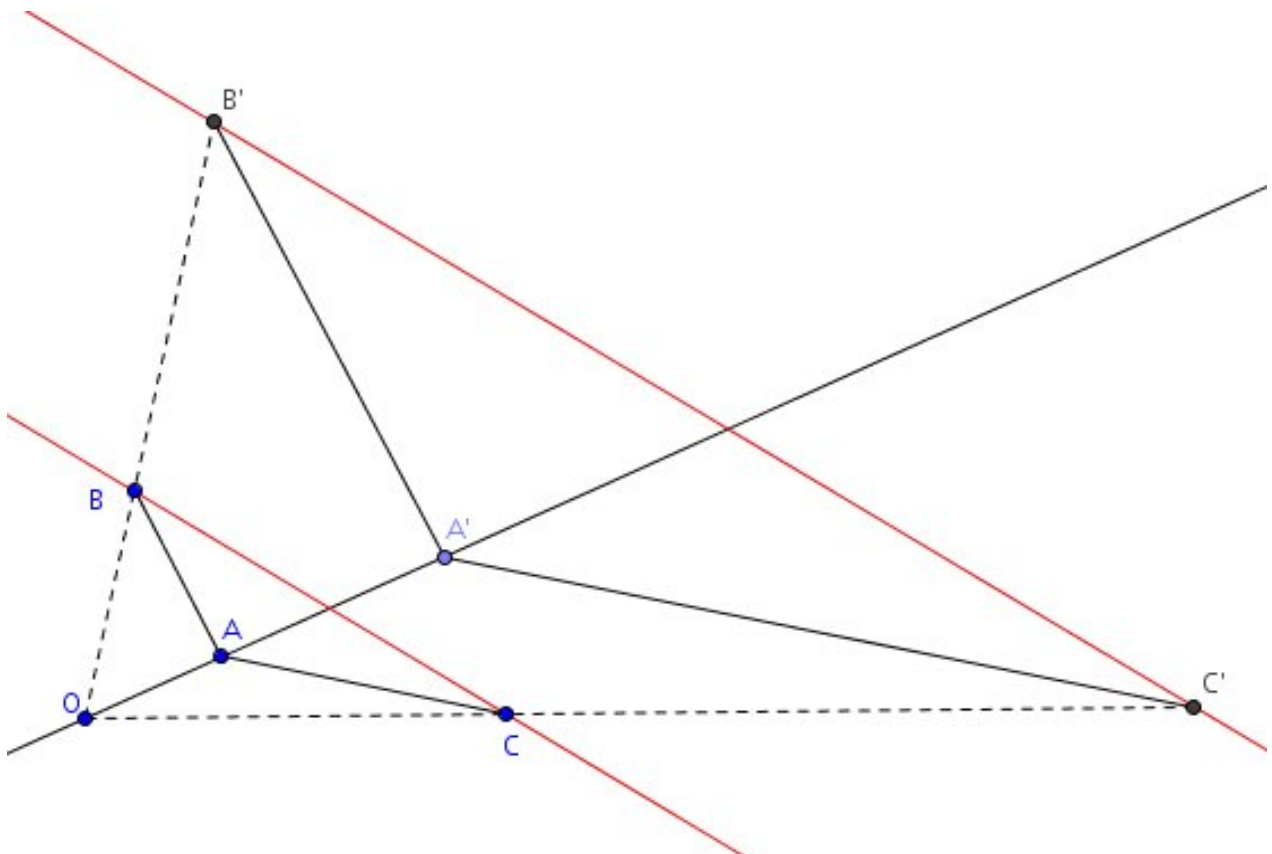
Montrer qu'une droite  $(d)$  est globalement invariante par  $h$ , c'est-à-dire  $h(d) = d$  si et seulement si  $O$  appartient à  $(d)$ .

**Exercice 6**

Construire l'image de la droite  $(d)$  par l'homothétie de centre  $O$  qui transforme  $A$  en  $A'$ .



**Illustration**

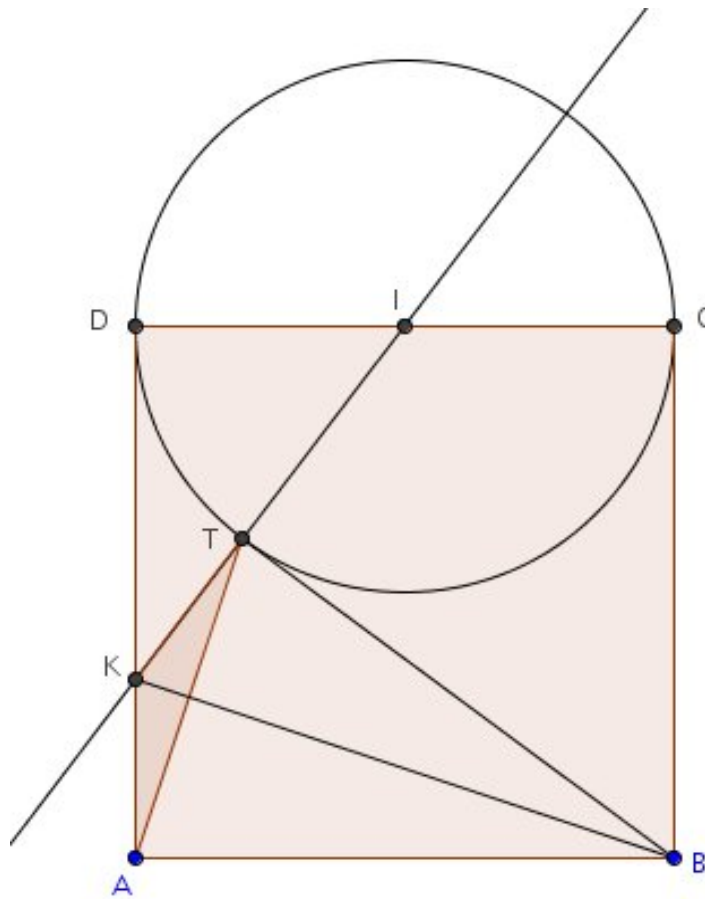


**Exercice 7**

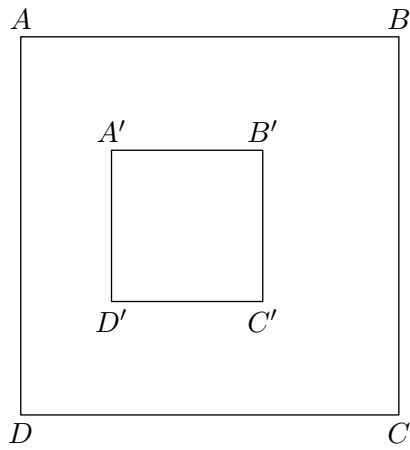
$ABCD$  est un carré. Soit  $I$  le milieu de  $[CD]$  et  $(C)$  le cercle de centre  $I$  et de diamètre  $[CD]$ .  
La tangente  $(d)$  à  $(C)$  issue de  $B$  et ne passant pas par  $C$  coupe le cercle en  $T$ .  
La droite  $(IT)$  rencontre le segment  $[AD]$  en  $K$ .

Montrer que le triangle  $ATK$  est isocèle.

On pourra montrer que les triangles  $BTK$  et  $BAK$  sont isométriques.

**Illustration**

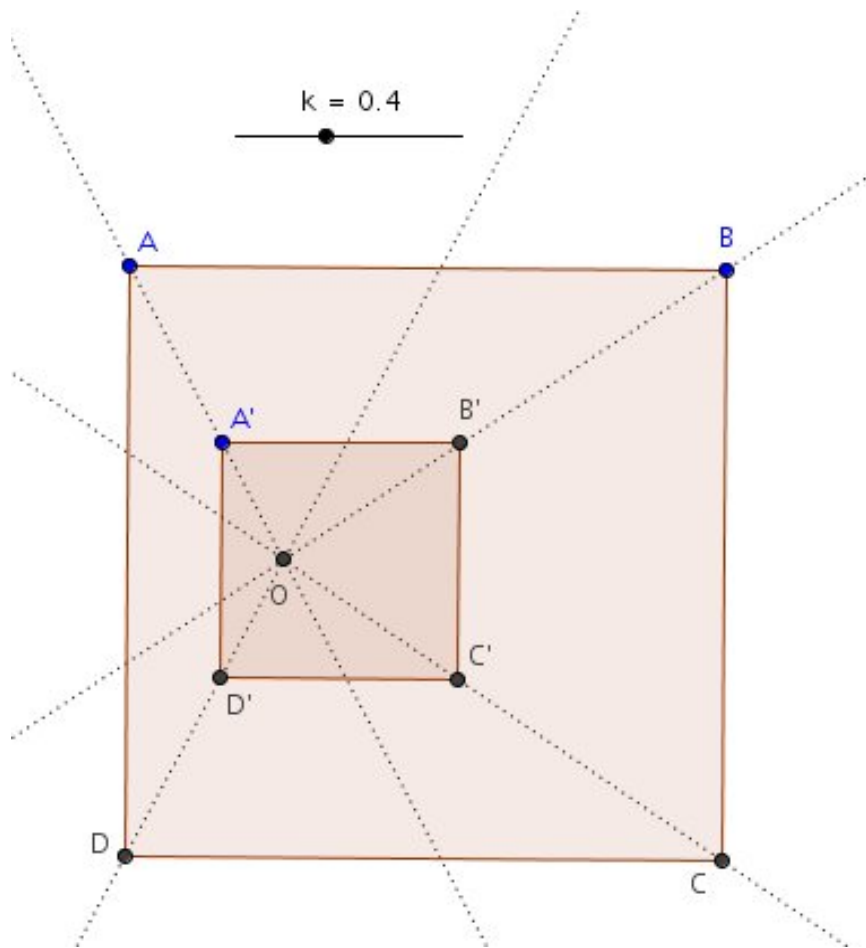
Exercice 8



Les carrés  $ABCD$  et  $A'B'C'D'$  ont des côtés deux à deux parallèles.

Les droites  $(AA')$ ,  $(BB')$ ,  $(CC')$  et  $(DD')$  sont-elles concourantes ?

**Illustration**

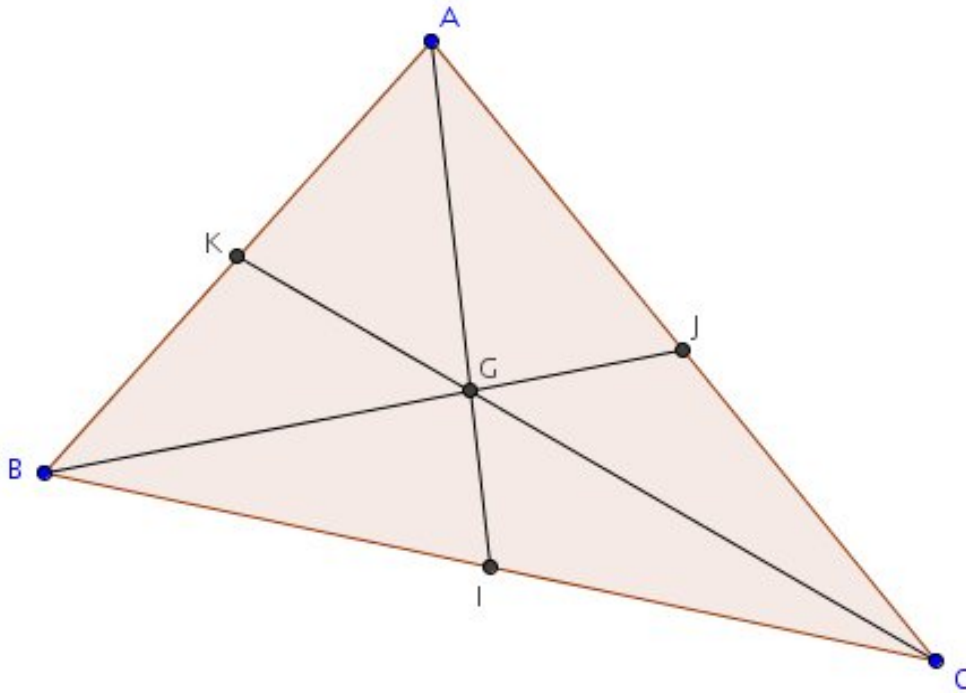




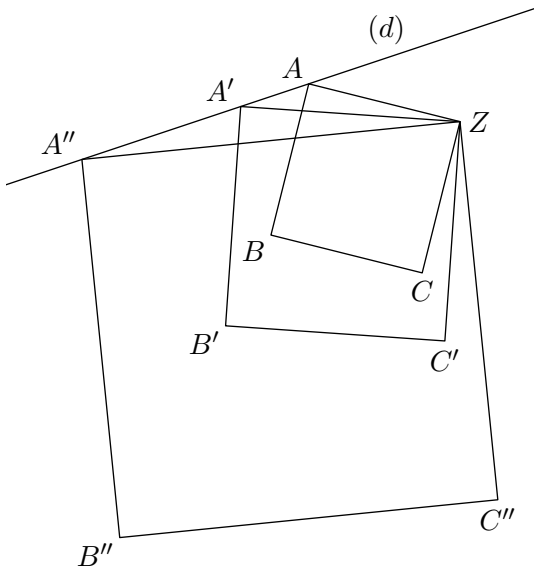
**Exercice 9**

Soit  $ABC$  un triangle quelconque et  $G$  son centre de gravité. Soient  $I$ ,  $J$  et  $K$  les milieux respectifs des côtés  $[BC]$ ,  $[AC]$  et  $[AB]$ .

Montrer que les triangles  $AJB$ ,  $BKI$ ,  $CIJ$  et  $IJK$  ont la même aire.

**Illustration**

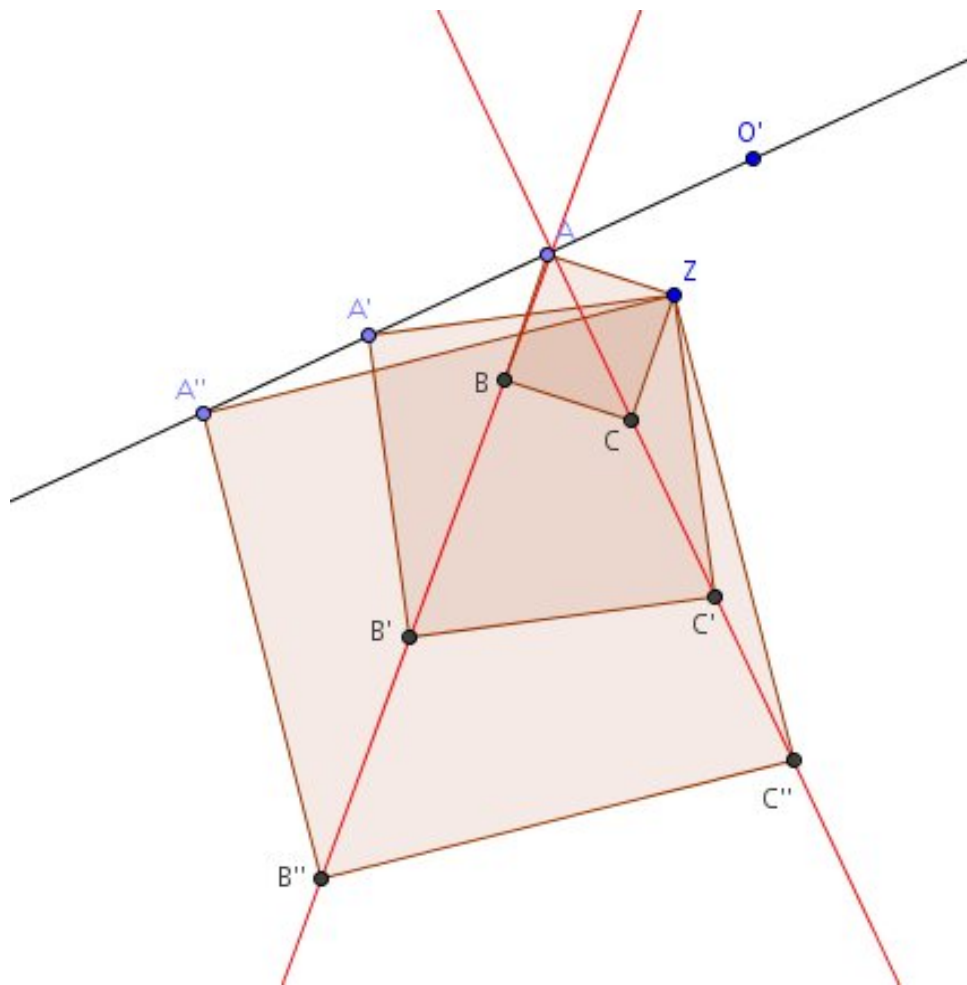
**Exercice 10**



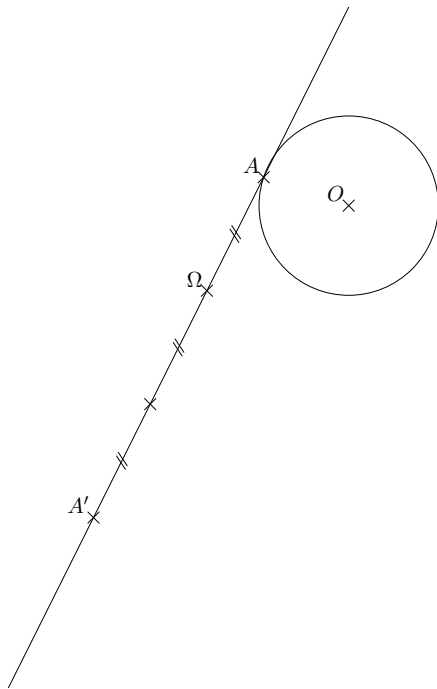
$ABCZ$ ,  $A'B'C'Z$  et  $A''B''C''Z$  sont trois carrés de sens direct. Les points  $A$ ,  $A'$  et  $A''$  sont alignés sur une droite  $(d)$ .

- 1) Démontrer l'alignement des points  $C$ ,  $C'$  et  $C''$ .
  - 2) Démontrer l'alignement des points  $B$ ,  $B'$  et  $B''$ .
- On pourra utiliser une homothétie et une rotation.

**Illustration**



**Exercice 11**



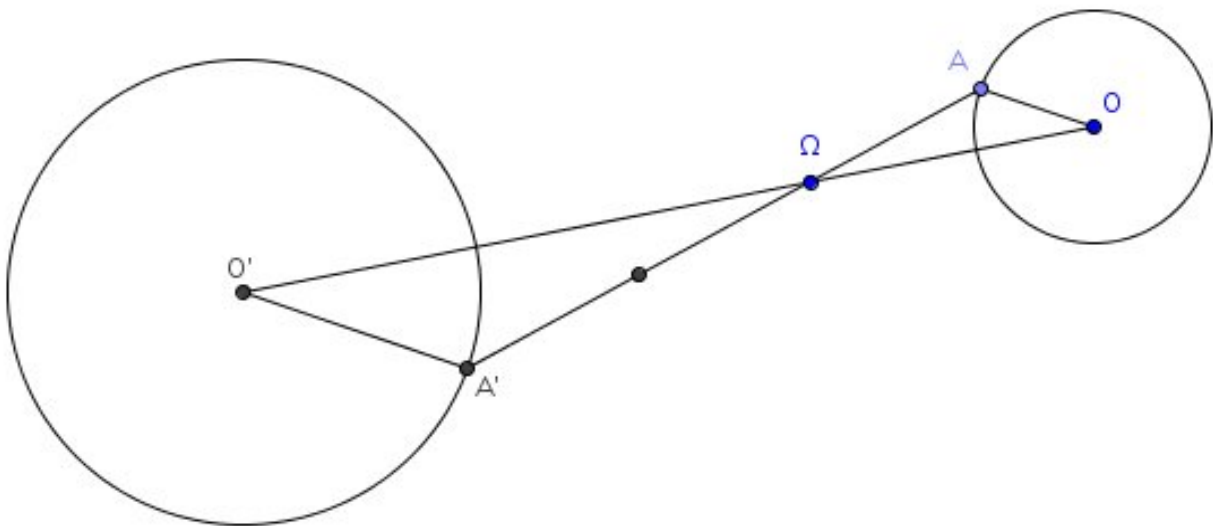
$(C)$  est le cercle de centre  $O$  et de rayon  $r$ .

$A$  est un point de  $(C)$ .

Soit  $h$  l'homothétie de centre  $\Omega$  transformant  $A$  en  $A'$ .

- 1) Construire le cercle  $(C')$  image de  $(C)$  par  $h$ . Justifier.
- 2) Préciser le rapport de l'homothétie  $h$ .
- 3) Dans le cas où  $r = 1,5$ , préciser le rayon du cercle  $(C')$ .

**Illustration**



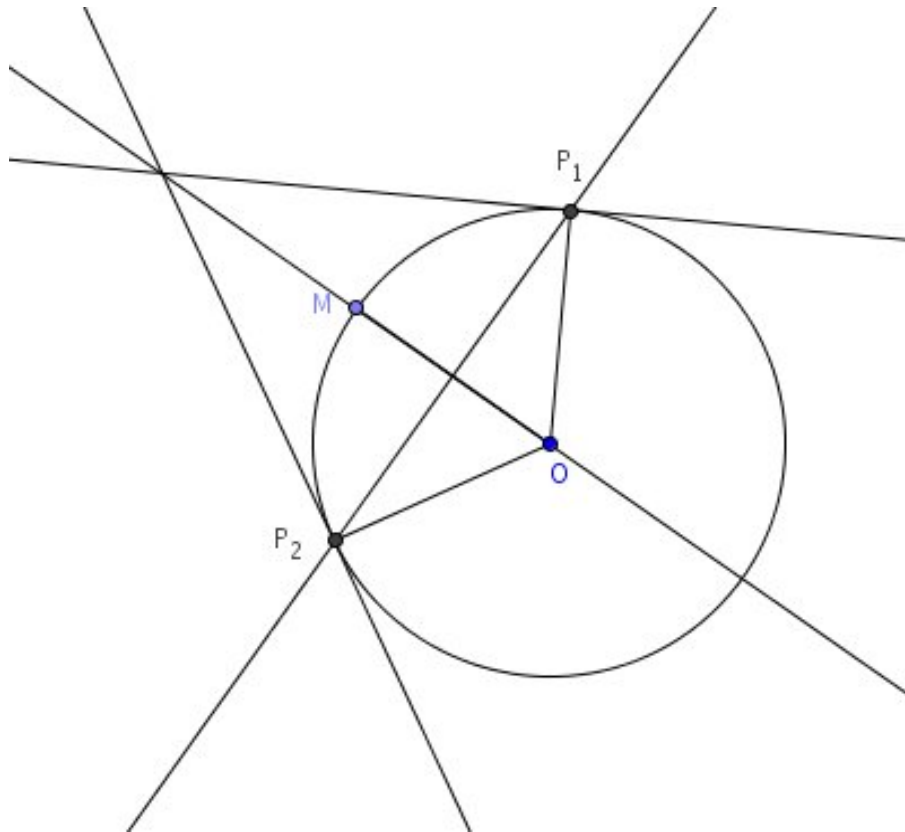
**Exercice 12**

$(C)$  est un cercle de centre  $O$ ,  $M$  est un point de  $(C)$ .

La médiatrice de  $[OM]$  coupe  $(C)$  en deux points  $P_1$  et  $P_2$ .

On note  $s$  la réflexion d'axe  $(OM)$ .

- 1) Démontrer que l'image de  $P_1$  par  $s$  est  $P_2$ .
- 2) Démontrer que l'image par  $s$  de la tangente à  $(C)$  en  $P_1$  est la tangente à  $(C)$  en  $P_2$ .
- 3) En déduire que les tangentes  $(C)$  en  $P_1$  et en  $P_2$  et la droite  $(OM)$  sont concourantes.

**Illustration**

**Exercice 13 Point de Vecten dans un triangle**

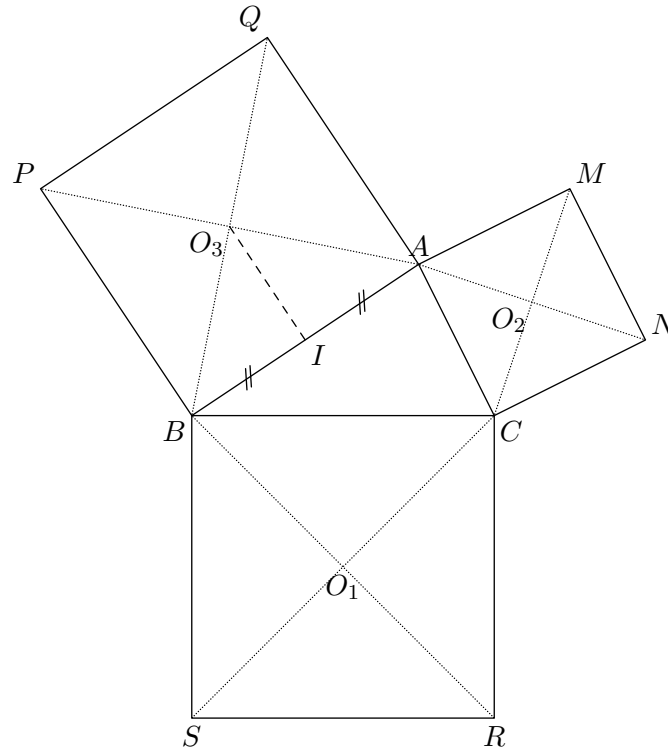
$ABC$  est un triangle de sens direct.

On construit à l'extérieur du triangle  $ABC$  les carrés  $BCRS$ ,  $CAMN$  et  $ABPQ$  de centres respectifs  $O_1$ ,  $O_2$  et  $O_3$ .

On note  $I$  le milieu de  $[AB]$ .

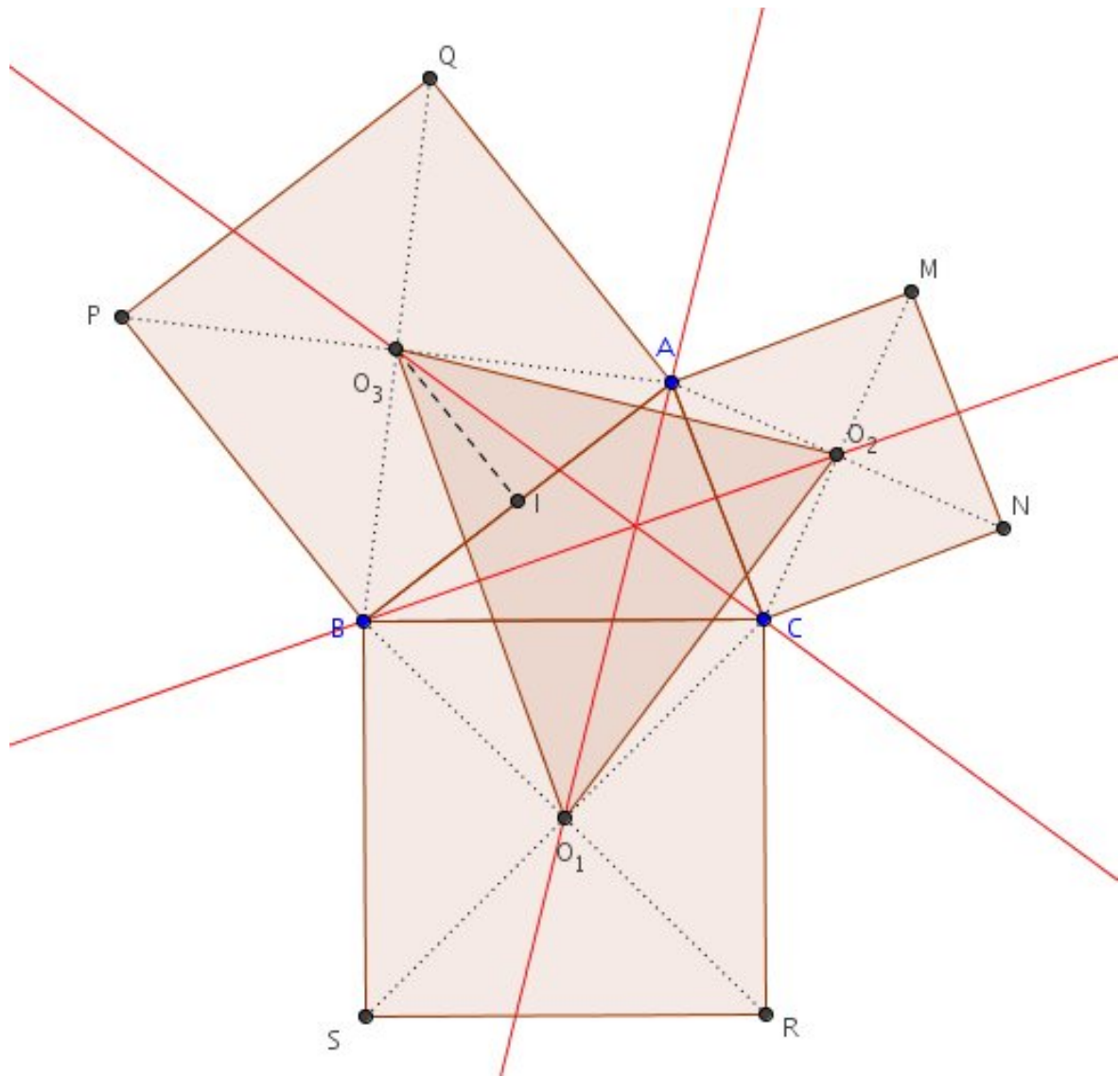
Le but de l'exercice est de démontrer que les droites  $(AO_1)$ ,  $(BO_2)$  et  $(CO_3)$  sont concourantes.

Ce point est appelé le point de Vecten du triangle  $ABC$ .



- 1) Démontrer que les segments  $[BN]$  et  $[AR]$  sont perpendiculaires et de même longueur.  
On pourra utiliser une rotation de centre  $C$ .
- 2) En déduire que les segments  $[IO_1]$  et  $[IO_2]$  sont également perpendiculaires et de même longueur.  
On pourra utiliser le théorème des milieux dans les triangles  $ABR$  et  $ABN$ .
- 3) Démontrer que  $[AO_1]$  et  $[O_2O_3]$  sont perpendiculaires et de même longueur.  
On pourra utiliser une rotation de centre  $I$ .
- 4) En déduire que les droites  $(AO_1)$ ,  $(BO_2)$  et  $(CO_3)$  sont concourantes en l'orthocentre du triangle  $O_1O_2O_3$ .

Illustration



Exercice 14

Exercice 15



**Exercice 16**

Exercice 17

**Exercice 18**

Exercice 19

Exercice 20

Exercice 21

Exercice 22

Exercice 23



Exercice 24

Exercice 25

Exercice 26

Exercice 27

**Exercice 28**

Exercice 29

**Exercice 30**

Exercice 31



Exercice 32

**Exercice 33**

Exercice 34

**Exercice 35**

**Exercice 36**

Exercice 37

**Exercice 38**

Exercice 39



Exercice 40

Exercice 41

Exercice 42

Exercice 43

Exercice 44

Exercice 45

Exercice 46

Exercice 47



Exercice 48

Exercice 49

Exercice 50